

第二单元素质测评试卷

(总分:100分 时间:60分钟)

题号	一	二	三	四	五	六	附加题	总分
得分								

一、下面哪幅图是淘气看到的？哪幅图是笑笑看到的？在括号中写出他们的名字。(20分)

1.



笑笑

淘气



(笑笑) () (淘气)

2.



笑笑



淘气



(笑笑)



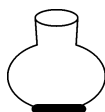
()



(淘气)

二、我是小法官。(对的画“√”,错的画“×”)(20分)

1.



是小丽从上面看到花瓶的样子。

(×)

2.

乐乐看到



,是站在鸡的侧面看到的。

(×)

3.



,这是帆帆家电风扇的正面图。

(√)

4.

对于同一物体,从不同的方向看,看到的形状是一样的。

(×)

三、在正确答案下面的□里画“△”。(12分)

1.



,这是小明从()看到的大卡车。

正面



侧面



后面



2. , 这是林林从()看到的水壶。

正面



侧面





上面





四、分别是谁看到的？连一连。(12分)

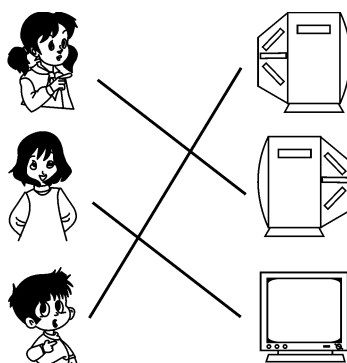

1.




2.



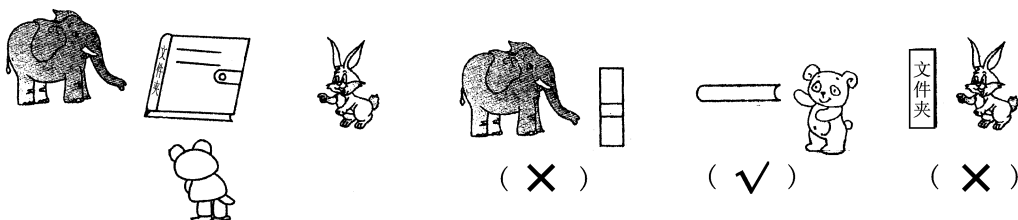
3.



4.




五、小动物看到的图形对吗？对的画“√”，错的画“×”。（12 分）




六、按要求完成下面各题。（24 分）

1. 下面哪幅图是小狗看到的？在 ☐ 里画“√”。




2. 下面哪幅图是小华看到的？在 ☐ 里画“○”。



3. 在亮亮看到的图形下面的 ☐ 里画“△”。



亮亮



4. 在朋朋看到的图形下面的 ☐ 里画“☆”。

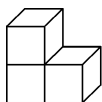


朋朋

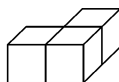


附加题。(10分)

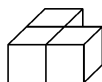
想一想,选一选。



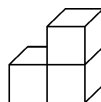
①



②



③



④

1. 从正面看是 ☐☐ 的有(②③)。

2. 从右面看是 ☐ 的有(①④)。

3. 从上面看是 ☐☐ 的有(①④)。